


Atividades

1) OBSERVE AS CASAS DA RUA DE TALITA E ENUMERE DE ACORDO COM A SEQUÊNCIA QUE SE PEDE.




2) DONA JOANA TINHA UM JARDIM FLORIDO AJUDE DONA JOANA A COMPLETAR O VASO DE ACORDO COM O NÚMERO EM DESTAQUE.



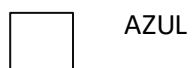
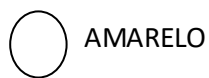
AGORA QUE JÁ COMPLETOU O VASO, VAMOS COLOCAR OS NÚMEROS EM ORDEM CRESCENTE.

| |
|--|
| |
|--|

3) PINTE A Casa De Talita De Acordo Com A Legenda.




LEGENDA



4) SIGA AS COORDENADAS ABAIXO.

- A. DESENHE UMA FLOR DO LADO DIREITO DA TALITA.
- B. DESENHE UMA PIPA NA MÃO ESQUERDA DE TALITA.
- C. DESENHE UMA BOLA NA FRENTE DE TALITA.
- D. ATRÁS DE TALITA DESENHE DUAS BORBOLETAS.



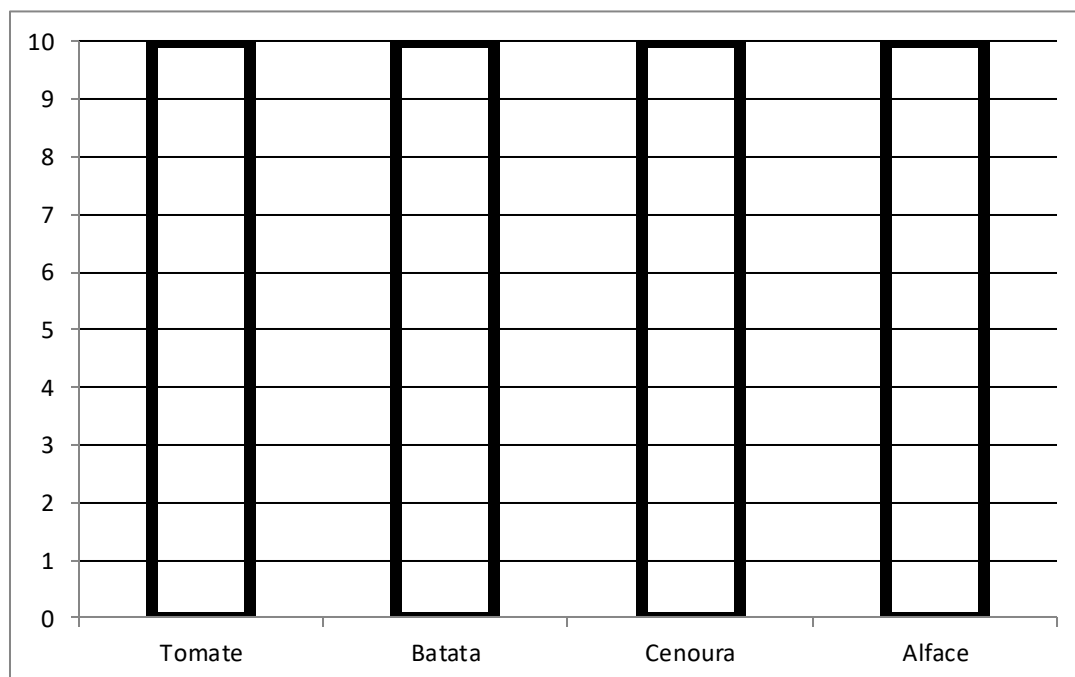
Componente curricular: Matemática

Tema gerador: O Vestido Azul

Autora: Sandra Aymone

Atividades

1) Pinte no gráfico a quantidade de hortaliças que o professor comprou no mercado.



LEGENDA

08 TOMATES

05 CENOURAS

03 ALFACES

07 BATATAS

Agora responda:

A) QUAL HORTALIÇA O PROFESSOR FELIPE COMPROU EM MAIOR QUANTIDADE?

R: _____


B) QUAL HORTALIÇA FOI COMPRADA EM MENOR QUANTIDADE?

R: _____

C) QUAL A DIFERENÇA ENTRE A QUANTIDADE COMPRADA DE ALFACE E DE TOMATE?

D) QUAL FOI O TOTAL DE HORTALIÇAS COMPRADAS?

2)COM A AJUDA DO PROFESSOR,FAÇA O PERCURSO NA MALHA ABAIXO E AJUDE A TALITA CHEGAR A ESCOLA SEGUINDO OS COMANDOS. O QUE SERÁ QUE ELA ENCONTROU PELO CAMINHO?



COORDENADAS

ANDE 7 CASAS PARA FRENTE.

ANDE 4 CASAS PARA BAIXO.

VIRE PARA A SUA DIREITA E ANDE 5 CASAS PARA FRENTE E CHEGARÁ A CASA DO PROFESSOR.

ANDE 2 CASAS PARA CIMA.

VIRE PARA A SUA DIREITA E ANDE 4 CASAS.

DESÇA 5 CASAS.

ANDE 12 CASAS PARA SUA ESQUERDA.

DESÇA 2 CASAS.

ANDE 7 CASAS PARA SUA DIREITA.

DESÇA 2 CASAS.

ANDE 6 CASAS A SUA DIREITA.

CHEGOU À ESCOLA.

AGORA RESPONDA:

QUANTAS CASAS TALITA ANDOU PARA CHEGAR NA CASA DO PROFESSOR?

☐ 14

☐ 6

☐ 16

☐ 10

QUANDO ELA ANDOU 39 CASAS CHEGOU EM QUAL LUGAR?

☐ ÁRVORE

☐ SORVETEIRO

☐ CARRO

☐ PARQUE

PARA CHEGAR A ESCOLA QUANTAS CASAS TALITA PRECISOU ANDAR?

☐ 56 CASAS

☐ 24 CASAS

☐ 32 CASAS

☐ 26 CASAS

Componente curricular: Matemática

Tema gerador: O Vestido Azul


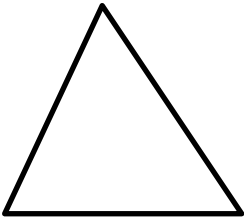
Autora: Sandra Aymone

Atividades

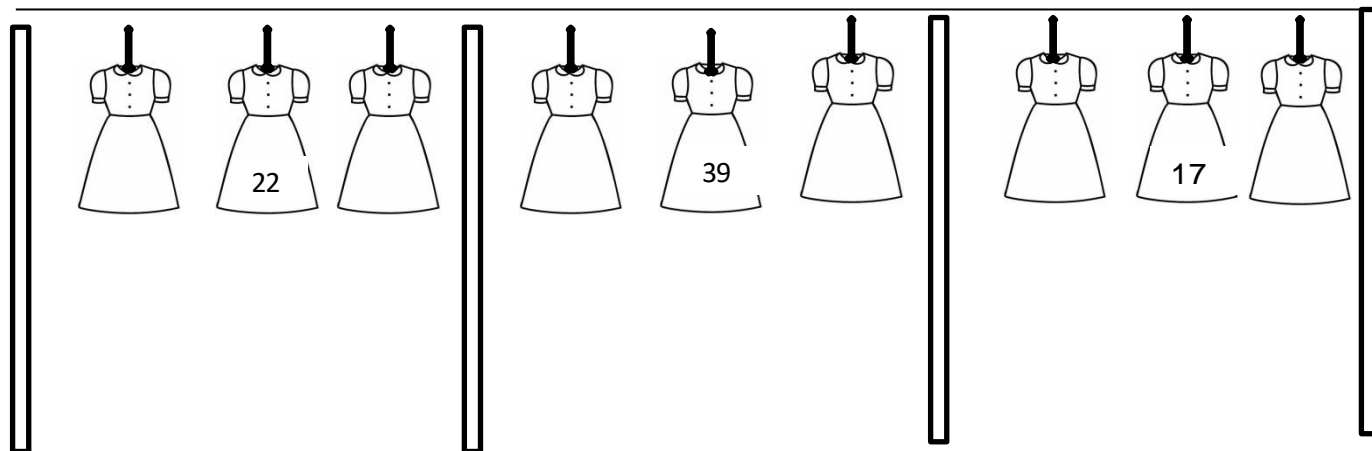
- 1) Que coisa incrível! A casa de Jorge e da Joana, agora, é a mais bonita da rua! Pinte as formas geométricas de acordo com a legenda, recorte e monte a casa.



| LEGENDA | |
|---|----------|
|  | AMARELO |
|  | VERDE |
|  | AZUL |
|  | VERMELHO |



2) COLOQUE O ANTECESSOR E O SUCESSOR DOS NÚMEROS DENTRO DOS VESTIDOS DA TALITA.



3) NA LOJA QUE FOI COMPRADO O VESTIDO DE TALITA HAVIA 3 VESTIDOS VERMELHOS, 5 VERDES E 2 AZUIS. QUANTOS VESTIDOS HAVIA NA LOJA?
FAÇA A REPRESENTAÇÃO.

4) SE O PROFESSOR COMPROU UM VESTIDO PARA TALITA, QUANTOS VESTIDOS SOBRARAM NA LOJA?
FAÇA A REPRESENTAÇÃO.

5) ESCREVA OS NÚMEROS QUE FALTAM NA RETA NUMÉRICA.

