



Componente Curricular: Matemática

Tema gerador: Livro - O Pneu chorão


Autora: Sandra Aymone

Grupo: 4º ano

ATIVIDADE 3

1-Um pneu foi jogado no aterro, partindo do ponto 1Aseguiu o seguinte trajeto: percorreu 3 quadrados para a direita, 4 quadrados para baixo e, em seguida virou 1 quadrado para a esquerda.

Traceja trajetória na malha quadriculada abaixo e escreva em qual quadrado ele chegou.



2-Assinale a alternativa que completa a sequência numérica:

10000	15000	20000			
A. 21000	22000	23000			
B. 30000	40000	50000			
C. 25000	30000	35000			
D. 25000	35000	45000			

3-Assinale a alternativa da decomposição do número 4320

- A. $4 \times 100 + 3 \times 100 + 2 \times 100$
- B. $4 \times 1000 + 32 \times 10$
- C. $4 \times 100 + 3 \times 100 + 2 \times 10$
- D. $4 \times 1000 + 3 \times 100 + 2 \times 10$

4-Em um dia, o Brasil joga fora 240 mil toneladas de lixo nos aterros sanitários. A quantidade de lixo jogado em 15 dias é:

- A. 225
- B. 3600
- C. 3600000
- D. 255

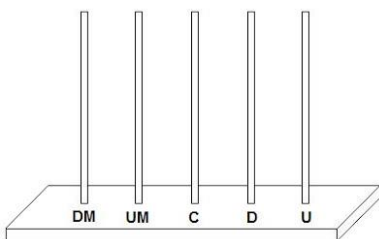
5-Assinale a alternativa correta da composição do número:

$$12 \times 1000 + 4 \times 100 + 8 \times 10$$

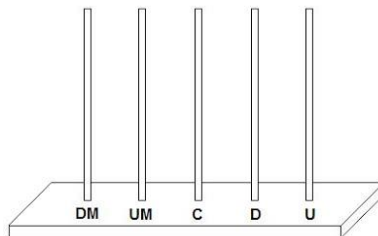
- A. 1284
- B. 12084
- C. 12048
- D. 12480

6- Representa os números nos ábacos abaixo:

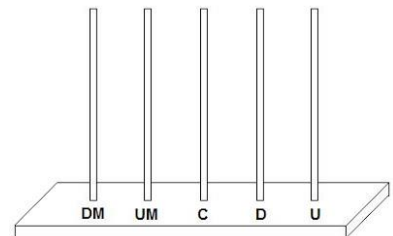
A. 37608



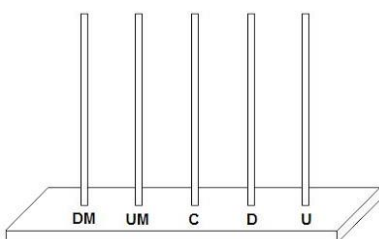
B. 20738



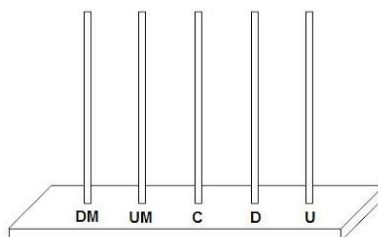
C. 51108



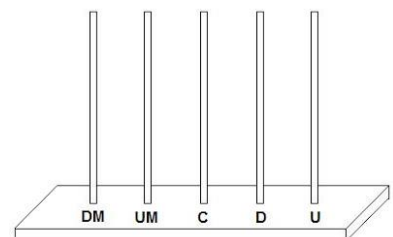
D. 78290



E. 60543



F. 99999



7- No número 24563 o número 4 corresponde à:

- A. Unidade
- B. Dezena
- C. Centena
- D. Unidade de milhar