



**ESCOLA SEM
MUROS:
EM CASA
TAMBÉM SE
APRENDE**

7º Ano - 1



GEOGRAFIA

Olá estudante, tudo bem?
Continuamos em casa, esperando o Planeta Terra sarar.



Enquanto essa pandemia continuar, precisamos nos cuidar e cuidar de todos que amamos ! Segue algumas orientações ...

Prevenção



Evite sair de casa



Lave as mãos
frequentemente com
água e sabão



Evite tocar olhos,
nariz e boca



Não compartilhe
objetos de uso
pessoal



Limpe objetos que
trazemos da rua e
aqueles que são tocados
frequentemente



Cubra com o braço, o
nariz e a boca ao tossir
ou espirrar



Utilize lenços
descartáveis, jogue-os
no lixo após o uso



Evite contato de
crianças com idosos



Mantenha os
ambientes arejados



😊 OS ESTUDOS NÃO PODEM PARAR!

**"ESTUDAR É O CAMINHO DO SUCESSO.
VOCÊ PODE AINDA NÃO TER CHEGADO
ONDE GOSTARIA DE ESTAR, MAS COM
CERTEZA ESTARÁ MAIS PERTO DO QUE
ONTEM"**

— Autor Desconhecido





COMO ESTUDAR E APRENDER EM CASA?

- ✓ Crie uma rotina de estudo.
- ✓ Separe um local tranquilo e organizado.
- ✓ Utilize nos seus estudos: o caderno, o celular e/ou computador, e o livro didático (se tiver).

VAMOS COMEÇAR?

Nessa aula você irá aprender sobre:



- Características das paisagens e do povo brasileiro;
- A localização geográfica do território brasileiro;

Habilidades:

(EF07GE01) Avaliar, por meio de exemplos extraídos dos meios de comunicação, ideias e estereótipos acerca das paisagens e da formação territorial do Brasil.

(HCEF07GE02T) Analisar o processo de formação do território brasileiro, interpretando as demarcações de limites e fronteiras, em diferentes períodos.

Vamos começar com uma música (clique aqui) ➔



Depois, responda as perguntas abaixo:



1) O que é ser brasileiro?

2) A música e as imagens abaixo representam a cultura e o povo brasileiro? Explique.



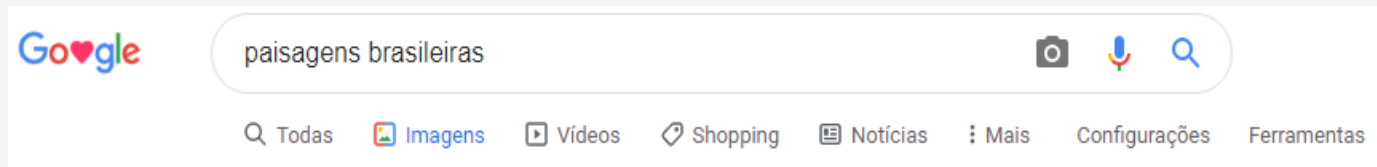
3) Leia o trecho da carta de Pero Vaz de Caminha (escrita em 1500). A carta apresentou corretamente o território brasileiro? Explique.

Trecho da carta de Pero Vaz

“Esta terra, Senhor, parece-me que, da ponta mais ao Sul até a outra ponta ao Norte, do que nós pudemos observar deste porto, é tão grande que deve ter bem ou vinte e cinco léguas de costa. Ao longo do mar, têm, em algumas partes, grandes barreiras, uma vermelhas e outras brancas; e a terra é toda chã e muito formosa. O sertão nos pareceu, visto do mar, muito grande; porque a estender os olhos não podíamos ver senão terra e arvoredos – terra que nos parecia muito extensa.

Até agora não pudemos saber se há ouro ou prata nela, ou outra coisa de metal, ou ferro; nem os vimos. Contudo, a terra em si é de bom clima, fresco e temperado, como os de Entre-D’Ouro-E-Minho, nesta época do ano. As águas são muitas; infinitas. De tal maneira é graciosa que, querendo-a aproveitar, dar-se-á nela tudo, por causa das águas que tem!”

Observe imagens do nosso país (clique na imagem ao lado):



4) Elabore no seu caderno um resumo de cinco a dez linhas sobre o Brasil. Se necessário procure mais informações na internet ou no seu livro.

COMO LOCALIZAR O TERRITÓRIO BRASILEIRO?

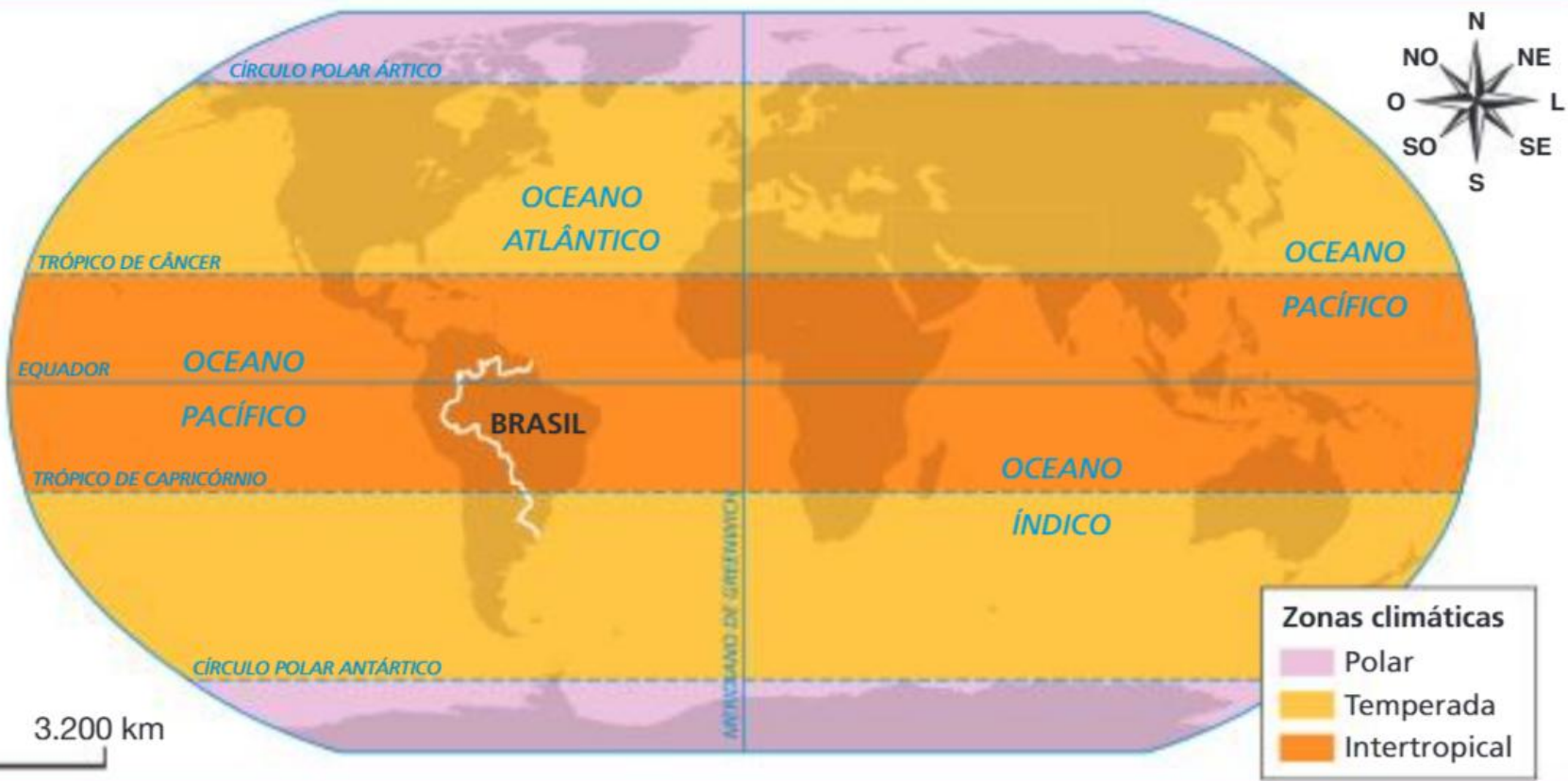
O território brasileiro pode ser localizado com base na divisão do mundo em **hemisférios**. Considerando que no globo terrestre o Meridiano de Greenwich define o leste (ou oriente) e o oeste (ou ocidente) e que a linha equatorial define o norte (ou setentrional) e o sul (ou meridional), observe a localização do Brasil na figura 1.

Figura 1. O Brasil no planisfério



COMO LOCALIZAR O TERRITÓRIO BRASILEIRO?

Figura 2. Mundo: zonas térmicas ou climáticas



ANDERSON DE ANDRADE PIMENTEL

COMO LOCALIZAR O TERRITÓRIO BRASILEIRO?

Figura 3. Localização do Brasil na América



ANDERSON DE ANDRADE PIMENTEL

Fonte: elaborado com base em IBGE. Atlas geográfico escolar. 7. ed. Rio de Janeiro: IBGE, 2016. p. 34.

Figura 4. América do Sul: político – 2017



ANDERSON DE ANDRADE PIMENTEL

Atividades:

- 1) Em quais hemisférios o Brasil está localizado?
- 2) Quais países da América do Sul não fazem fronteira com o Brasil?
- 3) O Brasil é um país apenas tropical? Explique.

ATIVIDADES

4) Clique na figura abaixo (Google Maps):



A) Digite Brasil na barra de pesquisa do Google Maps.




B) Observe a localização do Brasil.

C) Clique no ícone fotos, observe imagens do nosso país e salve algumas fotos no seu computador ou celular.

Sugestão: Clique no link ao lado e jogue o jogo Mapa-Mundi.





Parabéns, você realizou as atividades de Geografia!



Até a próxima semana! 😊



PREFEITURA MUNICIPAL DE TAUBATÉ
SECRETARIA DE EDUCAÇÃO

EPP – Equipe de Práticas Pedagógicas

eppseed@gmail.com

Professor Gilson Q. de Alcântara