



Componente curricular: Matemática

Tema gerador: Livro “O pneu chorão”

Autora: Sandra Aymone

Grupo: 1º ano

Atividade 1

1- Assinale a alternativa que mostra a quantidade de personagens do livro “O Pneu Chorão” que podem ser reciclados.







- A. 3 PERSONAGENS
- B. 2 PERSONAGENS
- C. 4 PERSONAGENS
- D. 5 PERSONAGENS


2- Numere a segunda coluna de acordo com a primeira observando a quantidade de letras do nome de cada personagem do livro.

<input type="radio"/> A		<input type="text" value="PNEU"/>	<input type="radio"/>	<input type="text" value="5 LETRAS"/>
<input type="radio"/> B		<input type="text" value="REVISTA"/>	<input type="radio"/>	<input type="text" value="15 LETRAS"/>
<input type="radio"/> C		<input type="text" value="VIDRO"/>	<input type="radio"/>	<input type="text" value="4 LETRAS"/>
<input type="radio"/> D		<input type="text" value="GARRAFA PLÁSTICA"/>	<input type="radio"/>	<input type="text" value="7 LETRAS"/>

3- Quantas figuras têm em cada conjunto? Pinte o quadrinho com o número que representa a quantidade de cada personagem.

	4	9
	6	5

	10	8
	9	2

	3	7
	1	5