



# PREFEITURA MUNICIPAL DE TAUBATÉ





## SECRETARIA DE EDUCAÇÃO

# ESCOLA SEM MUROS: EM CASA TAMBÉM SE APRENDE!

### Matemática 1º ano (Atividade 13)

Atividades com habilidade (EF01MA02) - Contar de maneira exata ou aproximada, utilizando diferentes estratégias como o pareamento e outros agrupamentos.

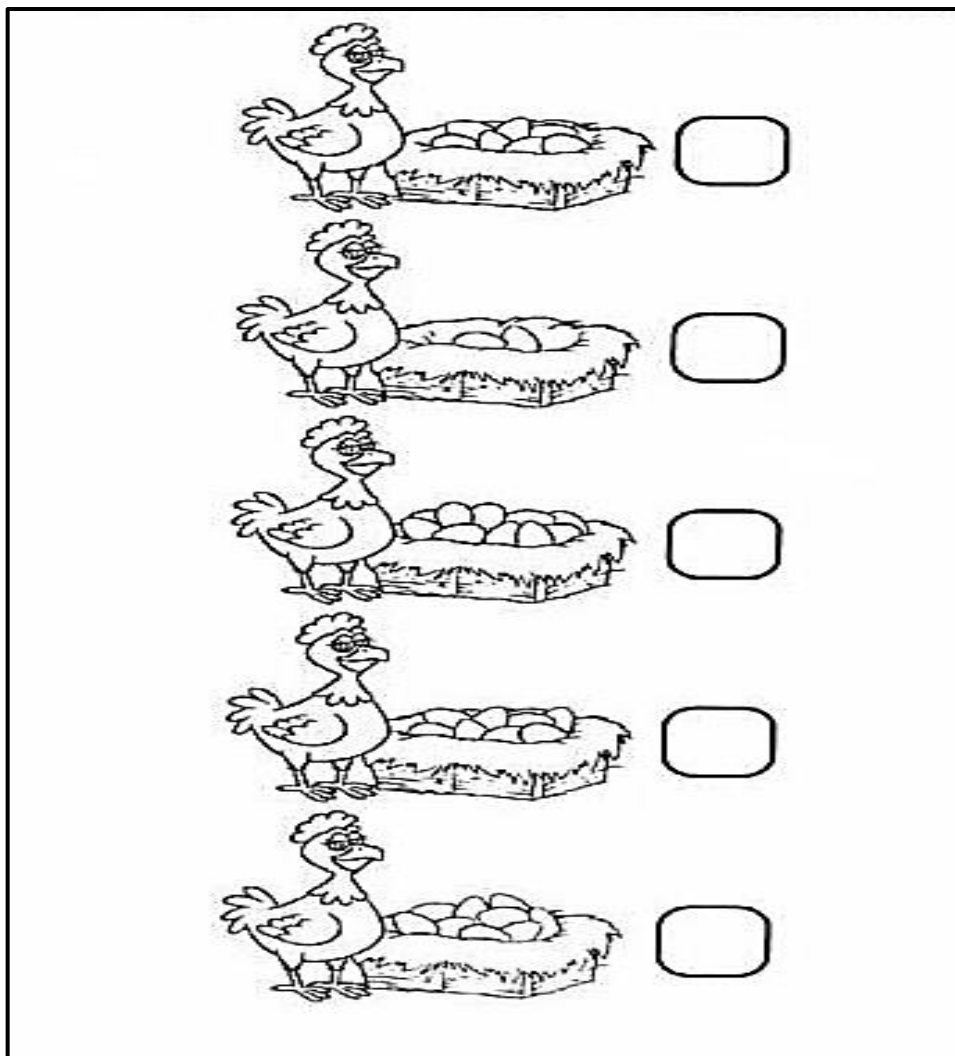
1. CONTE OS DOCES QUE HÁ EM CADA CONJUNTO E PINTE O QUADRADO COM O NÚMERO CORRETO.

							
<table border="1"><tr><td>2</td><td>5</td><td>3</td></tr></table>	2	5	3	<table border="1"><tr><td>2</td><td>4</td><td>1</td></tr></table>	2	4	1
2	5	3					
2	4	1					
							
<table border="1"><tr><td>5</td><td>3</td><td>4</td></tr></table>	5	3	4	<table border="1"><tr><td>3</td><td>4</td><td>5</td></tr></table>	3	4	5
5	3	4					
3	4	5					

2. AGORA CONTE TODOS OS DOCES DA ATIVIDADE ANTERIOR (CUPCAKES, PIRULITOS, BALAS E BRIGADEIROS) E ESCREVA O NÚMERO NO QUADRADINHO.

--


3. OBSERVE QUANTOS OVOS CADA GALINHA BOTOU E ANOTE NO QUADRO AO LADO O NÚMERO CORRETO, EM SEGUIDA FAÇA UM CÍRCULO NO NINHO COM MENOS OVOS:



4. PAULO É UM COLECIONADOR DE CARRINHOS E ARRUMOU-OS NA PRATELEIRA. QUANTOS CARRINHOS ELE JÁ TEM? MARQUE O NÚMERO NO QUADRADINHO.



5. DESENHE A QUANTIDADE DE FRUTAS EM CADA ÁRVORE DE ACORDO COM O NÚMERO INDICADO E PINTE A ÁRVORE COM MAIOR QUANTIDADE DE FRUTAS.



**E agora? Vamos brincar?** Você sabe que brincando nós também aprendemos? Entre no site da Prefeitura Municipal de Taubaté - <http://www.taubate.sp.gov.br/escolasemmuros/> - e confira a atividade lúdica que preparamos para o dia de hoje para o 1º Ano!

**Professoras parceiras na elaboração das atividades:** Sandra Regina Santos da Silva e Sueli Santos Oliveira