



PREFEITURA MUNICIPAL DE TAUBATÉ






SECRETARIA DE EDUCAÇÃO

ESCOLA SEM MUROS: EM CASA TAMBÉM SE APRENDE!

Matemática 1º ano (Atividade 15)


Atividades com habilidade (EF01MA02) - Contar de maneira exata ou aproximada, utilizando diferentes estratégias como o pareamento e outros agrupamentos.

1. CONTE AS FIGURAS, LIGUE AO NÚMERO CORRESPONDENTE E FAÇA UM CÍRCULO NO OBJETO ONDE TEM A MENOR QUANTIDADE.

	5
	3
	2
	1
	4

2. AGORA CONTE TODAS AS FIGURAS DA ATIVIDADE ANTERIOR E ESCREVA O NÚMERO NO QUADRADINHO.

3. VAMOS CONTAR QUANTOS MENINOS E QUANTAS MENINAS TEM NA SALA DE AULA DA PROFESSORA CIBELE, FAÇA O REGISTRO NOS QUADRADINHOS E DEPOIS RESPONDA À PERGUNTA:




TEM MAIS MENINOS OU MENINAS NESSA SALA DE AULA FAÇA UM X NA ALTERNATIVA CORRETA.



() MENINAS

() MENINOS

4. AGORA CONTE QUANTOS ALUNOS TEM AO TODO NA SALA DE AULA DA PROFESSORA CIBELE, MENINOS E MENINAS E ESCREVA NO QUADRADINHO.

5. RAFAEL ESTA COM SUAS COLEÇÕES MISTURADAS. AJUDE-O A DESCOBRIR QUANTOS SKATES E QUANTAS BICICLETAS ELE TEM. ANOTE ABAIXO.



Professoras parceiras na elaboração das atividades: Sandra Regina Santos da Silva e Sueli Santos Oliveira.