



# PREFEITURA MUNICIPAL DE TAUBATÉ

## SECRETARIA DE EDUCAÇÃO

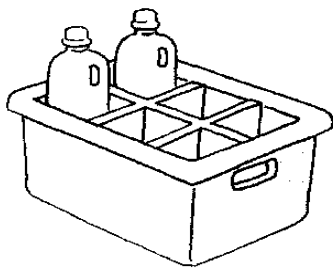
# ESCOLA SEM MUROS: EM CASA TAMBÉM SE APRENDE !

### Matemática 2º ano (Atividade 16)

Atividades com a habilidade (EF02MA06) Resolver e elaborar problemas de adição e de subtração, envolvendo números de até três ordens, com os significados de juntar, acrescentar, separar, retirar, utilizando estratégias pessoais ou convencionais.

VAMOS RESOLVER OS DESAFIOS ABAIXO:

1. VEJA A FIGURA E RESPONDA:




QUANTAS GARRAFAS FALTAM PARA COMPLETAR A CAIXA?  
FAÇA A OPERAÇÃO:

FALTAM \_\_\_\_\_ CAIXAS

2. RAFAEL TINHA 8 MOEDAS DE UM REAL. DEU 2 MOEDAS PARA SEU IRMÃO GABRIEL.  
QUANTAS MOEDAS SOBRARAM PARA RAFAEL?

FAÇA A OPERAÇÃO:



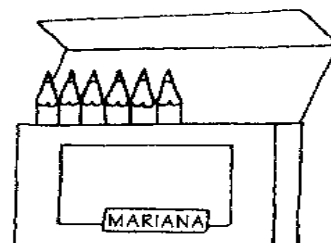
SOBRARAM \_\_\_\_\_ MOEDAS PARA RAFAEL.

3. ARIANE FOI À FEIRA E COMPROU 12 LARANJAS. JÁ CHUPOU 2. QUANTAS LARANJAS  
SOBRARAM? FAÇA A OPERAÇÃO:

SOBRARAM \_\_\_\_\_ LARANJAS.




4. OLHE O ESTOJO DA MARIANA. SE NESSE ESTOJO CABEM 9 LÁPIS, QUANTOS LÁPIS FALTAM PARA ELA COMPLETAR SEU ESTOJO?



FALTAM \_\_\_\_\_ LÁPIS.

5. ELAINE DESENHOU ALGUMAS ESTRELAS NA LOUSA. QUANTAS ESTRELAS FALTAM PARA ELA COMPLETAR DUAS DEZENAS?



FALTAM \_\_\_\_\_ ESTRELAS.

**E agora? Vamos brincar?** Você sabe que brincando nós também aprendemos? Entre no site <http://www.taubate.sp.gov.br/escolasemuros/> e confira a atividade lúdica que preparamos para o dia de hoje!

**Professoras parceiras para elaboração das atividades:** Patricia Cristina Antunes Mariotto e Valéria Aparecida de Araujo.