



PREFEITURA MUNICIPAL DE TAUBATÉ
SECRETARIA DE EDUCAÇÃO

ESCOLA SEM MUROS
BEM VINDOS
AS ATIVIDADES LÚDICAS
Atividade 14



Querida família

Estamos aqui para continuar nossas vivências com a aprendizagem de nossos filhos. Esta semana estamos apresentando mais atividades lúdicas para auxiliar no desenvolvimento de habilidades essenciais para o aprendizado.

Os jogos vão ajudar a consolidar o aprendizado das atividades que realizamos esta semana.

Vamos aproveitar e continuar elaborando recreações com nossos pequenos.

Bons estudos. Jogando também estamos aprendendo.



3^o ano




Matemática - Atividades lúdicas com 3 habilidades

Atividade lúdica com a habilidade (EF03MA6A) resolver e elaborar problemas de adição com os significados de juntar, acrescentar, comparar e completar quantidades, utilizando diferentes estratégias de cálculo exato ou aproximado, incluindo cálculo mental.

Atividade lúdica com a habilidade (EF03MA05) utilizar diferentes procedimentos de cálculo mental e escrito para resolver problemas significativos envolvendo adição e subtração com números naturais.

Atividade lúdica com a habilidade (EF03MA22A) ler e registrar medidas e intervalos de tempo, utilizando relógios digital para informar os horários de início e término de realização de uma atividade e sua duração.



**CHEGOU A HORA DA DIVERSÃO.
BRINCANDO TAMBÉM ESTAMOS APRENDENDO**

Vamos continuar desenvolvendo jogos com nossas crianças?
Nossa atividade tem início com a construção dos jogos junto com as crianças e os familiares. Eles gostam de participar desta etapa do jogo e vai ser um momento de muita diversão em família.



01

QUE HORAS...



O JOGO QUE HORAS... DESENVOLVE EM NOSSAS CRIANÇAS A HABILIDADE DE CONSTRUIR FATOS BÁSICOS DA ADIÇÃO E SUBTRAÇÃO ATRAVÉS DA RESOLUÇÃO DE PROBLEMAS, UTILIZANDO MEDIDAS DE TEMPO COM LEITURA DE HORAS.





OBJETIVOS

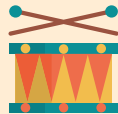
- ❖ AMPLIAR OS CONHECIMENTOS DOS FATOS BÁSICOS;
- ❖ DESENVOLVER ESTRATÉGIAS PESSOAIS PARA RESOLVER OS DESAFIOS;
- ❖ IDENTIFICAR HORAS EM RELÓGIO DIGITAL.

VOCÊ VAI PRECISAR DE:

- ❖ 20 CARTAS COM PERGUNTAS;
- ❖ 20 CARTAS COM AS RESPOSTAS;
- ❖ 1 RELÓGIO DIGITAL;
- ❖ 1 TABELA PARA CONTAR OS PONTOS.



COMO JOGAR



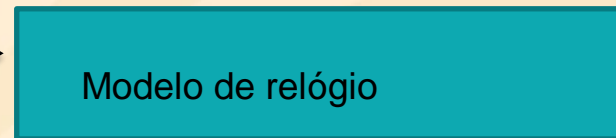

Pode ser jogado por 2 ou 4 participantes;

- ❖ O jogo contém 20 cartas pergunta, 20 cartas resposta com as horas, 1 relógio digital e tabela contadora de pontos.
- ❖ Recorte as cartas com as perguntas e as fichas amarelas com as horas.
- ❖ Os jogadores decidem quem vai começar o jogo;
- ❖ Cada jogador na sua vez tira uma carta e faz a pergunta para o outro participante;
- ❖ O jogador que for responder deverá resolver a operação calculando em uma folha ou mentalmente e responderá colocando a carta com hora certa no relógio abaixo.
- ❖ O jogador pode pedir auxílio dos pais para resolver a operação;
- ❖ Cada resposta certa vale 10 pontos, se errar não ganha pontos;
- ❖ Ganha quem fizer mais pontos depois de esgotar as cartas de perguntas;





MODELO DA FOLHA DE REGISTRO E DO RELÓGIO



NOME	1 ^a	2 ^a	3 ^a	4 ^a	5 ^a	TOTAL





<p>JOAQUIM ALMOÇA 12:30. SEU IRMÃO ALMOÇA 20 MINUTOS DEPOIS. QUE HORAS O IRMÃO DE JOAQUIM COME?</p>	<p>LUIZA TERMINOU DE BATER UM BOLO AS 16:10 HORAS. O BOLO LEVARÁ 40 MINUTOS PARA ASSAR, QUE HORAS O BOLO ESTARÁ ASSADO?</p>	<p>NUM JOGO DE FUTEBOL APROXIMADA MENTE DEMORA 45 MINUTOS NO PRIMEIRO TEMPO, 15 MINUTOS DE INTERVALO E MAIS 45 MINUTOS NO SEGUNDO TEMPO,SE UM JOGO COMEÇA AS 8:00, QUE HORAS ACABARÁ?</p>	<p>MARCELO CORRE POR 45 MINUTOS TODOS OS DIAS PONTUALMENTE AS 17:30. QUE HORAS ELE CONCLUE SUA CORRIDA?</p>
<p>FERNANDA LEVA 25 MINUTOS NO TRAJETO DE CASA PARA ESCOLA, ELA DEVE ENTRAR 5 MINUTOS ANTES DAS 7:00 . QUE HORAS ELA DEVE SAIR DE CASA?</p>	<p>MURILO TERMINA A TAREFA MEIA HORA ANTES DO TEMPO DE SEU IRMÃO LUIZ, QUE TERMINA SEMPRE 18:30h, QUE HORAS MURILO TERMINOU?</p>	<p>DONA GENOVEVA LEVA 4 HORAS PARA LIMPAR A SUA CASA, SE ELA COMEÇAR A LIMPAR AS 9:00, QUANDO TERMINARÁ?</p>	<p>GABI É MASSAGISTA, ELA ATENDE 1 CLIENTE A CADA HORA, SE ELA ATENDER 7 PESSOAS INICIANDO O SERVIÇO AS 8:00, QUE HORAS ELA TERMIMARÁ SEU SERVIÇO?</p>





<p>PAULINHO TEM UMA FESTA DE ANIVERSÁRIO AS 19 HORAS E PARA CHEGAR NA FESTA SAIRÁ AS 18:40h. QUANTO TEMPO ELE LEVARÁ NO TRAJETO?</p>	<p>UMA VOLTA NO CAMPO DEMORA 40 MINUTOS PARA SER DADA. QUANTO TEMPO SE GASTA DANDO 2 VOLTAS?</p>	<p>DEVO TOMAR 3 COMPRIMIDOS 1 A CADA 30 MINUTOS, SE EU TOMAR O PRIMEIRO AS 9:30, QUANDO TERMINAREI A MEDICAÇÃO?</p>	<p>O FILME <u>REI LEÃO</u>, TEM DURAÇÃO DE 1:58h SE COMEÇAR A VER AS 20:00h. QUANDO VAI TERMINAR?</p>
<p>NA FAZENDA, O GALO CANTA AS 4 HORAS, SEU JOSÉ SAI PARA ORDENHAR AS VACAS DUAS HORAS MAIS TARDE. QUE HORAS SEU JOSÉ VAI ORDENHAR AS VACAS?</p>	<p>MARA PINTOU AS UNHAS E DEVE ESPERAR 20 MINUTOS PARA SECAR, ELA TERMINOU DE PINTAR AS 10 HORAS, QUANDO AS UNHAS ESTARÃO SECAS?</p>	<p>DANIEL FAZ BELOS DESENHOS, EM MÉDIA GASTA 2 HORAS EM CADA, QUANTAS HORAS ELE DEDICA A FAZER 3 DESENHOS?</p>	<p>VOVÓ FAZ COCADAS EM 50 MINUTOS, MAMÃE DEMORA 20 MINUTOS A MAIS, SE COMEÇAREM JUNTAS AS 15:00 HORAS, QUANDO MAMÃE TERMINARÁ?</p>





<p>NO LAVA CARROS, CADA CARRO LEVA 1:30 PARA FICAR PRONTO, EM QUANTAS HORAS É POSSÍVEL LAVAR 5 CARROS?</p>	<p>O AVIÃO LEVA 1 HORA PARA IR DE TAUBATÉ ATÉ SÃO PAULO, O ÔNIBUS LEVA 3 HORAS, SE OS DOIS SAIREM AO MESMO TEMPO AS 6:00, QUE HORAS O ONIBUS CHEGARÁ?</p>	<p>A AULA DE BALÉ DEMORA 50 MINUTOS, MINHA AMIGA COMEÇOU AS 9:30h, QUE HORAS TERMINARÁ?</p>	<p>JOÃO PRATICA JUDO, ELE COMEÇA AS 19 HORAS, FAZ 20 MINUTOS DE ALONGAMENTO E 40 DE TREINO, QUANDO ACABA A AULA DELE?</p>
--	---	---	---





12:50

16:50

09:45

18:15

06:30

18:00





13:00

15:00

00:20

01:20

10:30

21:58





06:00

10:20

06:00

16:10

07:30

09:00





10:20

20:00





**Professora parceira na elaboração
do jogo**

Ana Paula Pazzianotto



OBRIGADA

**Até a próxima com novos jogos
para desenvolver com sua família.
Foi muito bom brincar com vocês.**





PREFEITURA MUNICIPAL DE TAUBATÉ
SECRETARIA DE EDUCAÇÃO

EPP – Equipe de Práticas Pedagógicas

Professora Valéria Aparecida de Araujo

eppseed@gmail.com