



PREFEITURA MUNICIPAL DE TAUBATÉ


SECRETARIA DE EDUCAÇÃO

ESCOLA SEM MUROS: EM CASA TAMBÉM SE APRENDE!

MATEMÁTICA 4º ano (Atividade 10)

Atividade com a habilidade (EF04MA16) descrever deslocamentos e localização de pessoas e de objetos no espaço, por meio de malhas quadriculadas e representações como desenhos, mapas, planta baixa e croquis, empregando termos como direita e esquerda, mudanças de direção e sentido, intersecção, transversais, paralelas e perpendiculares.

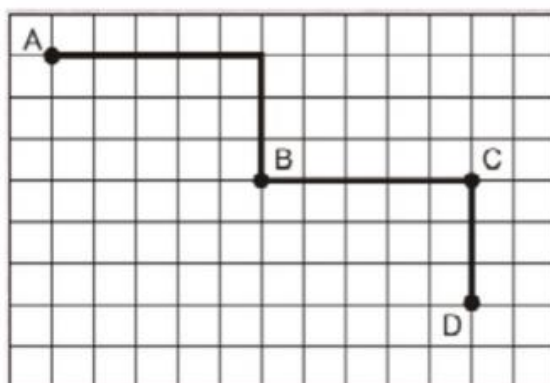
1. Observe a malha quadriculada e responda:



Qual a localização do urso?

- (a) A4
- (b) B2
- (c) C2
- (d) D3

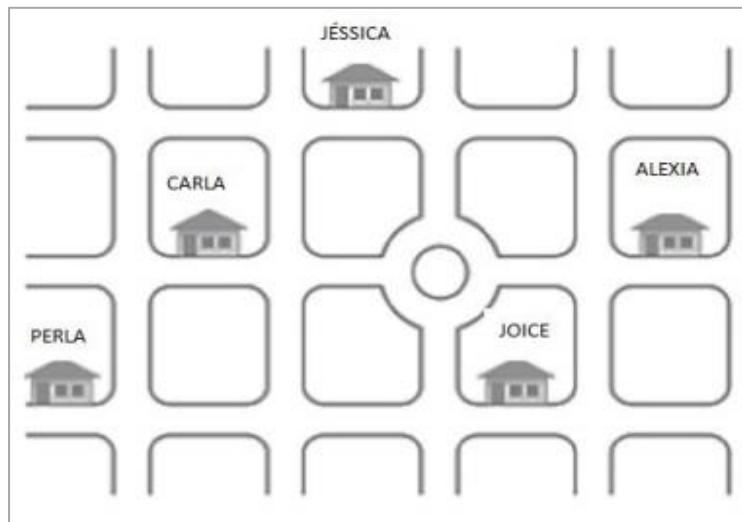
2. Observe a figura abaixo. Imagine que você saiu do **ponto A** chegou ao **ponto D**.



Assinale a alternativa que mostra o trajeto correto.

- (a) 5→ 3↓ 5→ 3↓
- (b) 4→ 3↓ 4→ 3↓
- (c) 5→ 3↓ 4→ 2↓
- (d) 4→ 2↓ 5→ 2↓


3 – Joice fez o desenho de seu bairro. Localizou sua casa e de algumas amigas.



A casa que fica mais próxima à casa de Joice é a de sua amiga

- (a) Perla.
- (b) Carla.
- (c) Jéssica.
- (d) Aléxia.

4. Observe a figura.



Qual a localização da casa do passarinho?


- (a) A2
- (b) A3
- (c) C2
- (d) C3

5. Participe desse jogo. Siga as instruções e trace o percurso que o personagem deve fazer no quadriculado. Comece pelo ponto de partida indicado. Ao final do percurso, identifique a fruta que ele poderá pegar.

- ande 3 quadradinho para a frente;
- vire à esquerda;
- ande 2 quadradinhos para a frente;
- vire à direita;
- ande 3 quadradinhos para a frente;
- vire a direita;
- para terminar, ande 5 quadradinhos para a frente.

Ao final do trajeto, que fruta pegará?

- (a) uva
- (b) maçã
- (c) abacaxi
- (d) banana



E agora? Vamos brincar? Você sabe que brincando nós também aprendemos?" Entre no site <http://www.taubate.sp.gov.br/escolasemmuros> e confira a atividade lúdica (atividade 11) que preparamos para o dia de hoje!!!

Professoras parceiras para elaboração das atividades

Adriana, Maria Marisa, Juliana, Vanessa, Silvia Flávia, Daniela e Shirley.