

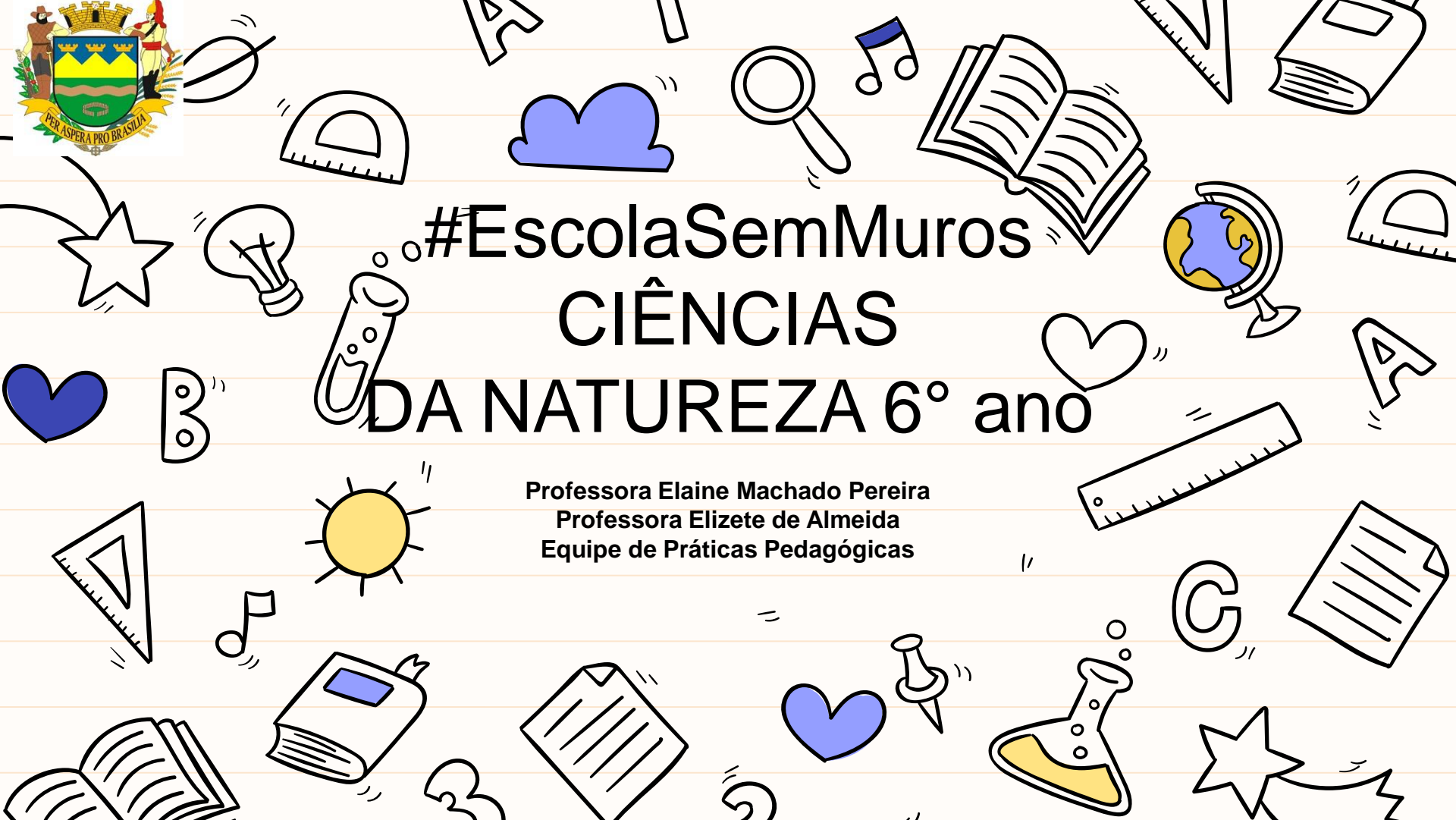


# #EscolaSemMuros

## CIÊNCIAS

### DA NATUREZA 6° ano

Professora Elaine Machado Pereira  
Professora Elizete de Almeida  
Equipe de Práticas Pedagógicas



**Queridos Alunos!**

**Bom dia, boa tarde ou boa noite!**

**Nós, professores de ciências da Rede Municipal de Ensino de Taubaté, preparamos atividades para que você possa continuar estudando sem sair de casa e é claro que precisamos da sua parceria. Podemos estar afastados da escola, porém sua aprendizagem não pode parar! Esta semana vamos dividir nosso estudo em dois dias! Então, “bora lá” organizar seus horários de estudo!**

**Espero que vocês estejam bem!**

## Habilidades

Ano	Eixos Organizadores	Habilidade
6º Ano	TERRA E UNIVERSO	(EF06CI11) Identificar as diferentes camadas que estruturam o planeta Terra (da estrutura interna à atmosfera) e suas principais características.
		(EF06CI12A) Identificar diferentes tipos de rocha relacionando a formação de fósseis a rochas sedimentares em diferentes períodos geológicos.

# Atividades

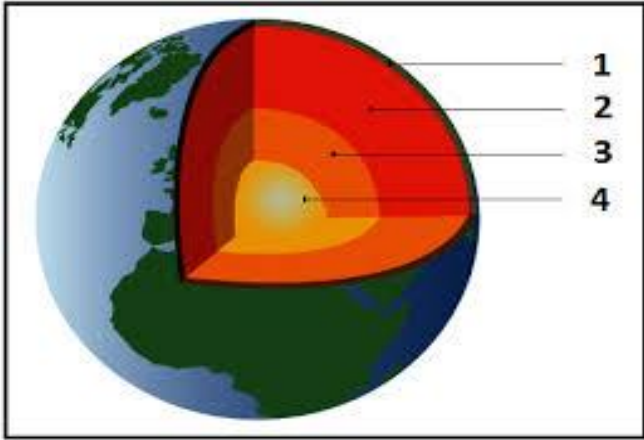
1 - Hidrosfera, litosfera e atmosfera são camadas existentes no planeta Terra. Juntas, elas formam a biosfera. Sobre cada uma das camadas citadas analise as afirmações seguintes:

- I. A litosfera é a porção seca da crosta terrestre, é a camada de solo.
- II. Hidrosfera é a camada de água, representa a maior camada do planeta Terra, compreende os rios, mares e lagos.
- III. A atmosfera é uma camada de ar que se origina da poluição das indústrias, das queimadas nas florestas e da eliminação de gás carbônico pelos seres vivos.

Estão corretas, apenas:

- a) I e II.
- b) II e III.
- c) II.
- d) I, II e III.

2) Observe a figura e dê o nome das partes indicadas com números.



1-

2-

3-


4-

**3) Com relação à hidrosfera é correto afirmar que ela é:**

- a) o conjunto formado por toda a água existente na superfície da Terra.
- b) o conjunto formado por toda a água existente na Terra, incluindo a água retida nos seres vivos.
- c) o conjunto formado por toda a água existente na atmosfera da Terra.
- d) o conjunto formado por toda a água existente nos seres vivos.
- e) o conjunto formado por todos os gases existentes na atmosfera.

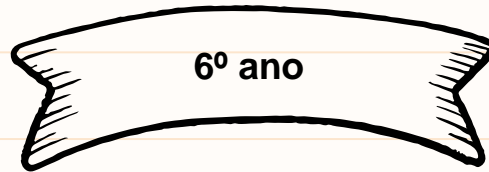
**4) – Coloque N para núcleo, M para manto e C para crosta terrestre.**

- a. ( ) Camada mais interna da Terra.
- b. ( ) Apresenta-se constituída por imensas placas rochosas denominadas placas tectônicas.
- c. ( ) É formada por rochas derretidas.
- d. ( ) Da transformação de suas rochas formou-se o solo e o subsolo.
- e. ( ) Pode ser dividida em uma parte líquida e uma parte interna sólida.



## Referências

[http://www.educacao.pe.gov.br/portal/upload/galeria/8591/06-CIENCIAS\\_FUNDAMENTAL.pdf](http://www.educacao.pe.gov.br/portal/upload/galeria/8591/06-CIENCIAS_FUNDAMENTAL.pdf)  
<https://brainly.com.br/tarefa/26210762>







PREFEITURA MUNICIPAL DE TAUBATÉ  
SECRETARIA DE EDUCAÇÃO

EPP – Equipe de Práticas Pedagógicas

[eppseed@gmail.com](mailto:eppseed@gmail.com)

