

**ESCOLA SEM
MUROS:
EM CASA
TAMBÉM SE
APRENDE**

6º Ano - 5



GEOGRAFIA



Nessa aula você irá aprender sobre:

- ✓ Leitura e Interpretação de Mapas.
- ✓ **Habilidade:** HCEF06GE05T – Reconhecer os elementos dos mapas e elaborar legendas com símbolos de diversos tipos .

VAMOS COMEÇAR?

O QUE É UM MAPA?

Uma representação plana, simplificada e reduzida da superfície terrestre (ou de uma parte dela), vista de cima, que utiliza linhas, pontos, símbolos e cores para trazer informações sobre variados temas: a organização dos territórios, aspectos naturais (como o relevo, os rios e a vegetação) e, ainda, sobre dados de economia, população, entre outros.

Os principais elementos de um mapa

Existem diversos tipos de mapa, cada um deles representa as particularidades do espaço geográfico, sejam elas físicas ou sociais. Há, no entanto, alguns elementos que devem estar presentes em qualquer representação cartográfica rigorosa: o título, a fonte, a rosa dos ventos (ou orientação), a escala, a legenda, as coordenadas geográficas e a localização do espaço terrestre representado.



Sugestão de vídeo <https://www.youtube.com/watch?v=Tx2ywfEHCzI>



Atividades

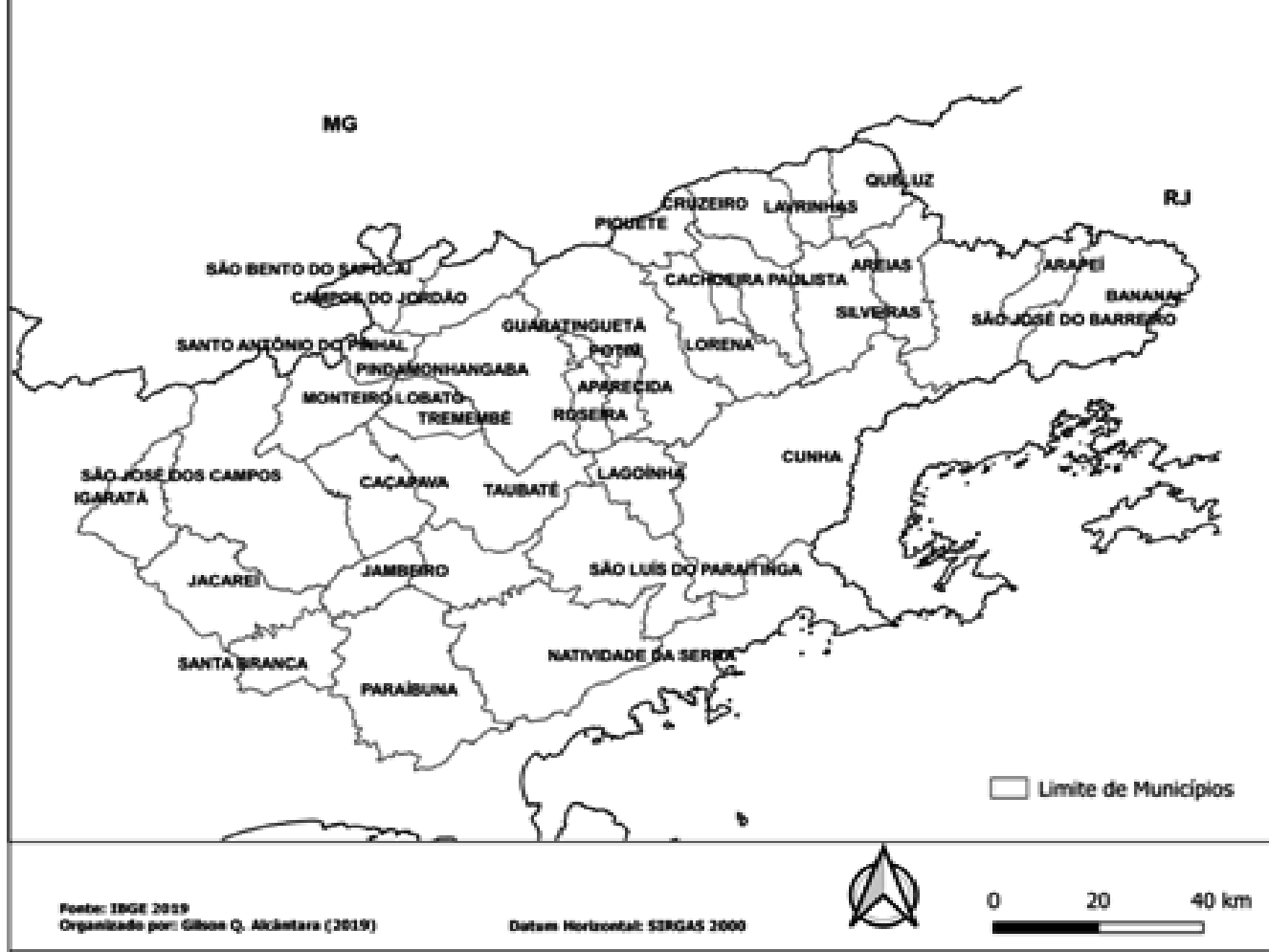
Observe o mapa ao lado:

1) Localize o município onde você vive e responda:

A) Quais são seus municípios limítrofes (vizinhos)?

B) Qual Região Metropolitana o município de Taubaté pertence?

Região Metropolitana do Vale do Rio Paraíba do Sul - SP



Atividades

Observe o mapa ao lado:

2) Qual é o título?

3) Encontre o Estado onde você vive e responda:

É correto afirmar que nesse Estado a porção de pessoas abaixo da linha de pobreza está entre 30% a 45% da população? Explique.

Proporção de pessoas abaixo da linha de pobreza

Por Unidades da Federação - 2017



Fonte: IBGE - Síntese de Indicadores Sociais 2018

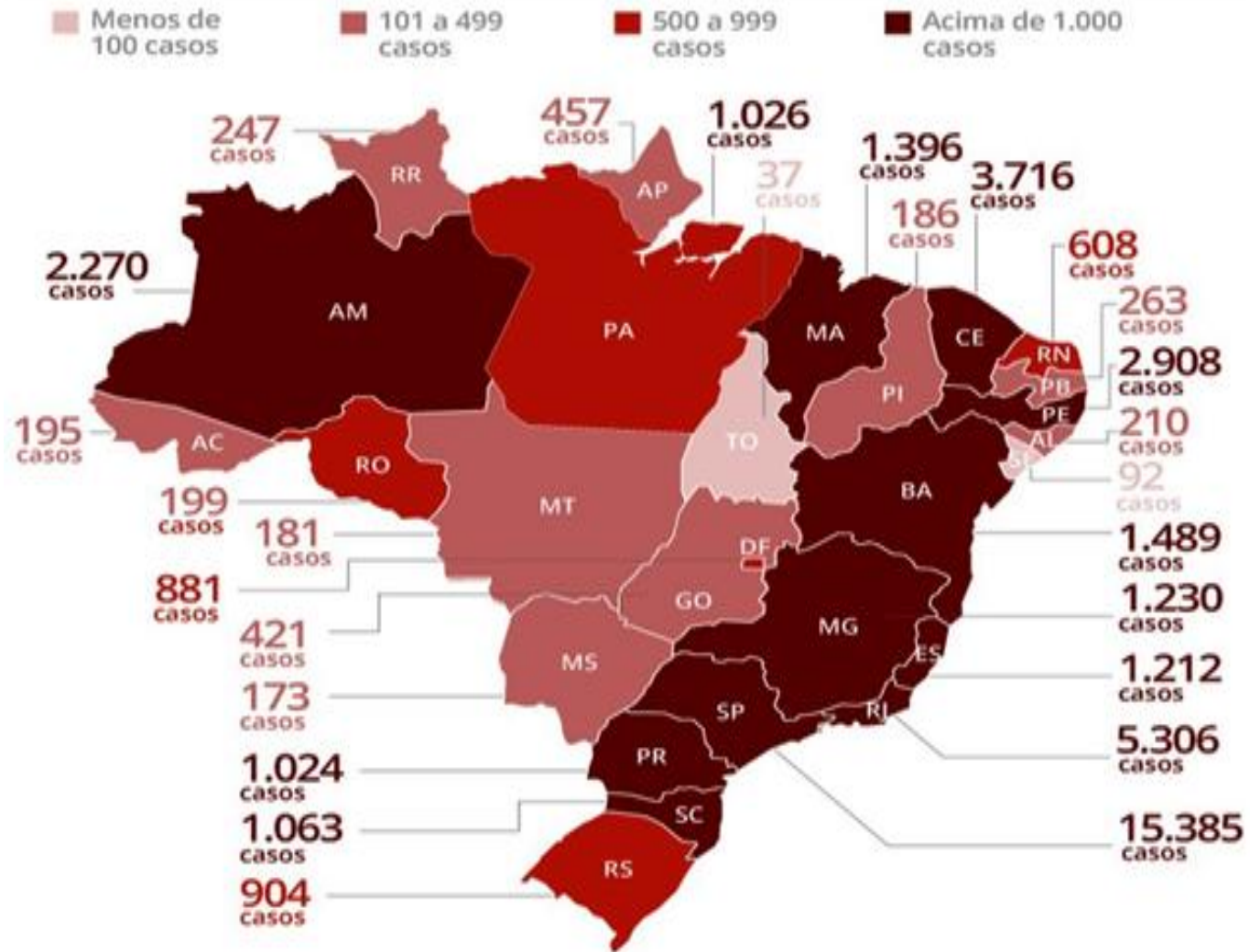
Atividades

Observe o mapa ao lado:

4) O mapa a seguir traz informações referentes ao número de contágios do CIVID-19 no Brasil em 20 de abril de 2020.

A) Quais são os três Estados com o maior número de casos?

B) Quais são os três Estados com o menor número de casos?



Atividades


5) O mapa a seguir divide o Brasil em 5 regiões. Observe a legenda e responda:

A- Em qual dessas regiões você vive?

B - Qual região do país apresenta o maior número de Estados?



Parabéns, você realizou as atividades de Geografia!



Até a próxima aula! 😊



PROFESSORES (AS) COLABORADORES:

**GABRIEL NORONHA CAMPOS CARIDADE
GENIVALDO DOS SANTOS
GILSON QUEIROZ DE ALCÂNTARA (EPP)**