

**ESCOLA SEM
MUROS:
EM CASA
TAMBÉM SE
APRENDE**

7º Ano - 7



GEOGRAFIA



Nessa aula você irá aprender sobre:

- ✓ ANÁLISE SOBRE O PROCESSO DE EVOLUÇÃO DE FORMAÇÃO DO TERRITÓRIO BRASILEIRO ATRAVÉS DE DEMARCAÇÕES TERRITORIAIS EM DIFERENTES PERÍODOS

Habilidade:

(HGEF07GE02T) Analisar o processo de formação do Território brasileiro, interpretando as demarcações de limites e fronteiras, em diferentes períodos.

VAMOS COMEÇAR?

FORMAÇÃO DO TERRITÓRIO BRASILEIRO - AS “CARAS” DO BRASIL

Bem, quando nos referimos às “caras” do Brasil, estamos nos referindo às várias formas que o território brasileiro foi tomando , assumindo, ao longo de seu período de formação ,até os dias atuais.

Desta forma, a **formação do território brasileiro** se deu ao longo de um processo que envolveu os fatores social, político, econômico, histórico, que atuando em conjunto resultaram em arranjos territoriais variados, isto é, em “caras” variadas.

Esses arranjos envolviam organizações em termos políticos – administrativos, expansionistas –exploratórios – econômicos.

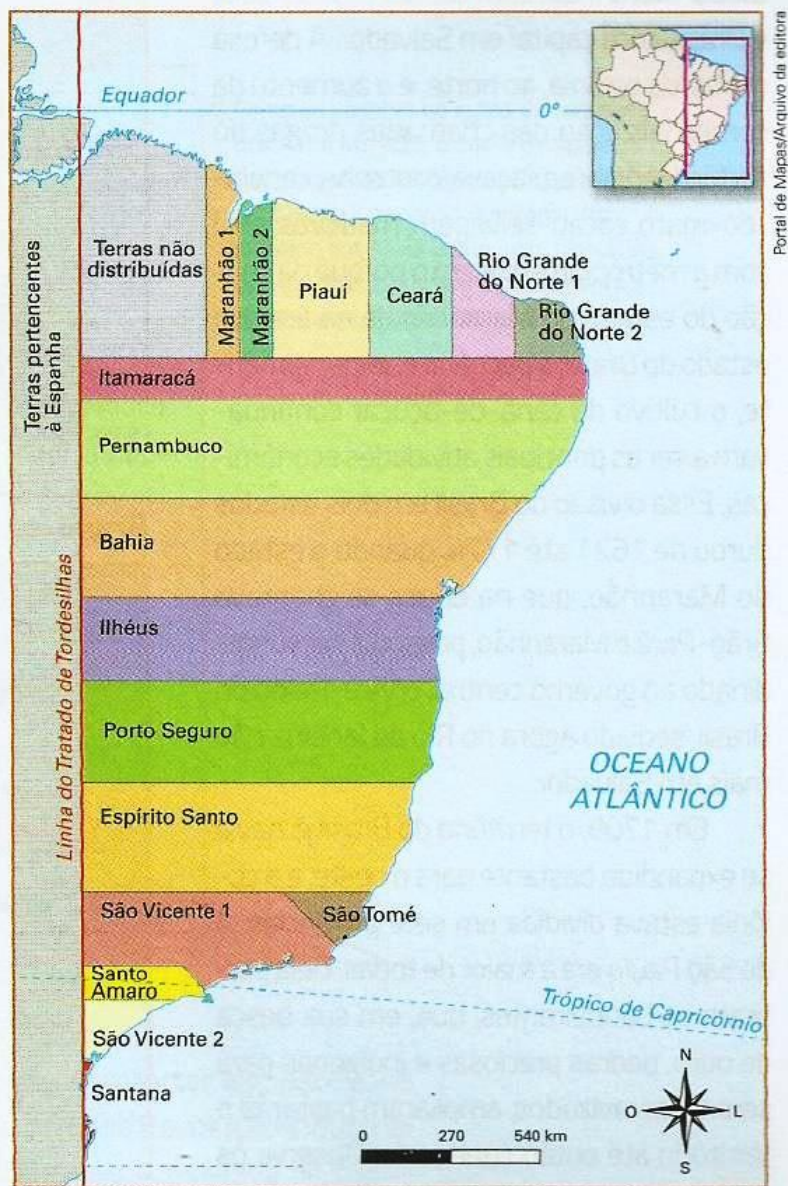
Assim, a cada período considerado para a formação do território temos arranjos que variaram em termos de fronteiras (nível externo) e de regionalização (nível interno), uma vez que ambos ocorriam simultaneamente.

Como exemplo, podemos observar que cada movimento de interiorização do território, no início da colonização, implicava na invasão do território que pertencia à Espanha e, por conseguinte, no estabelecimento de novos contornos internos.

Também não podemos nos esquecer que em termos demarcatórios os indígenas-aborígenes já possuíam demarcações nos territórios de suas atuações, baseadas em elementos naturais tais como: elevações do relevo; rios; formações vegetais; vales; etc.

FORMAÇÃO DO TERRITÓRIO BRASILEIRO - AS "CARAS" DO BRASIL

Brasil: capitanias hereditárias (1534-1536)



As **capitanias hereditárias** foram uma forma de administração territorial da América Portuguesa, isto é, a parte do Império Português pela qual a Coroa, com recursos limitados, delegou a tarefa de colonização e exploração de determinadas áreas.

O sistema de capitanias bem sucedido nas ilhas da Madeira e de Cabo Verde, foi inicialmente implantado no Brasil com a doação, a Fernão de Noronha, da *Ilha de São João* (atual ilha de Fernando de Noronha), por Carta Régia de Dom Manuel (r. 1495–1521) datada de 16 de fevereiro de 1504. Entretanto, o uso sistemático das capitanias foi estabelecido apenas em 1532 e, sua implementação no Brasil (continental), só tenha começado em 1534.

Com o insucesso das Capitanias Hereditárias, o governo português dividiu o território em dois estados:

Brasil (1621 a 1774)



FORMAÇÃO DO TERRITÓRIO BRASILEIRO - AS "CARAS" DO BRASIL

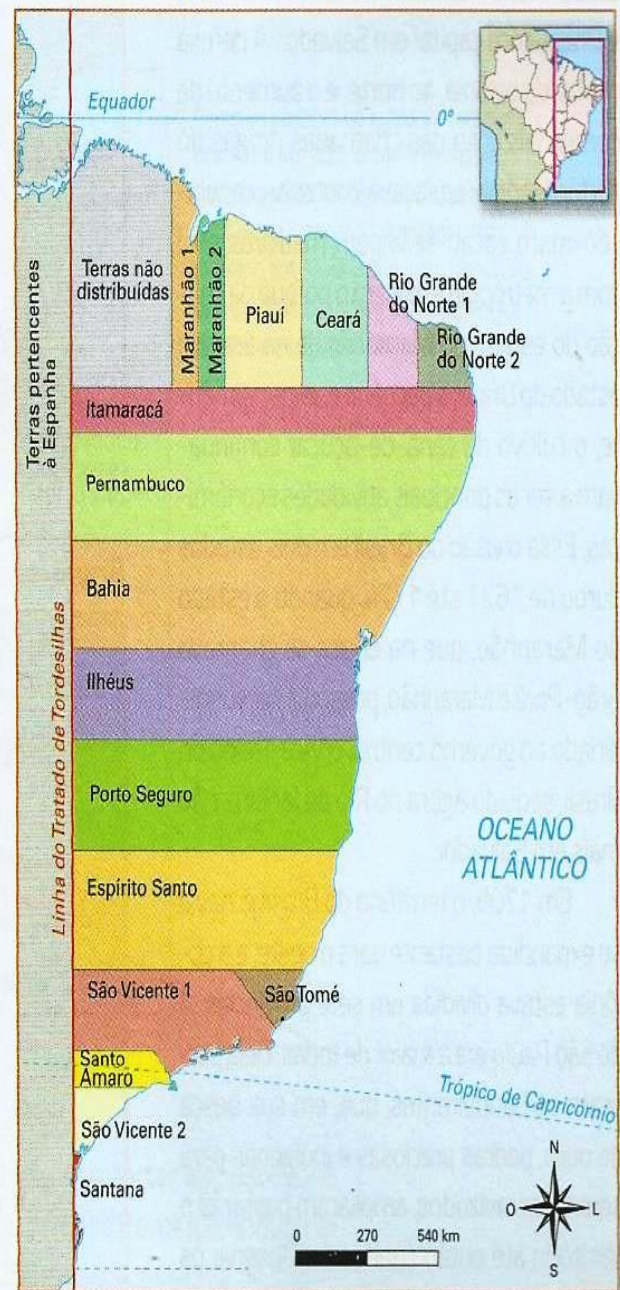
Os mapas a seguir mostram como o território brasileiro foi dividido até meados do século XVIII.

Início do século XVIII →

Início do Brasil Império ↓



Brasil: capitanias hereditárias (1534-1536)



Exercícios

Observe o mapas apresentados para responder. Eles representam a consolidação do território brasileiro, em nível interno e externo, entre período de 1534 e 1822.

1) Observe o mapa do território brasileiro em 1534 (**Capitanias Hereditárias**), pesquise em seu caderno ou na internet para responder as questões abaixo:

- Cite o nome de três capitanias hereditárias.
- Por que a coroa acabou delegando a particulares a administração do território?
- Quais duas localidades tiveram a implementação em capitanias hereditárias bem sucedida?



PARA PENSAR

d) Observe o mapa ao lado e o mapa Brasil -1621 a 1774 e responda: Você diria que houve invasão da parte espanhola do tratado de Tordesilhas? Justifique sua resposta.

2) O Mapa do território brasileiro em 1621, apresenta a divisão do território em dois estados: Maranhão e Grão Pará e o estado do Brasil.

Em 1621, ocasião em que Portugal estava sob o domínio da Espanha, o rei espanhol Felipe II dividiu o Brasil em dois estados: Maranhão com capital em São Luís; e Brasil, com capital em Salvador. A defesa militar da colônia, ao norte, e o aumento da comercialização das chamadas drogas do sertão (gengibre, piaçava, castanha, canela-do-mato, cacau selvagem, madeiras, etc.) com a metrópole explicam o porquê da criação do estado do Maranhão. Já na área do estado do Brasil, a pecuária e, especialmente, o cultivo da cana-de-açúcar continuavam as principais atividades econômicas



Responda as questões abaixo:

- De quem foi a resolução de dividir o território em duas partes?
- O que era desenvolvido, economicamente, em cada um dos dois estados?

PARA PENSAR



- Observando esse mapa você diria que houve invasão da parte espanhola do tratado de Tordesilhas? Explique

Mapa: Brasil político - 1822

Brasil (1822)



Fonte: elaborado com base em VICENTINO, Cláudio. *Atlas histórico*. São Paulo: Scipione, 2011. p. 128.

Como se observa no mapa do território brasileiro em 1822, o oeste de Santa Catarina ainda não pertencia ao país, nem uma parte a oeste da Amazônia. No extremo sul, havia a província Cisplatina, que em 1928 se tornou independente e passou a se chamar Uruguai.




Mapa: Brasil político - 1988

3) Na página anterior, vimos os mapas do território brasileiro em 1822 e em 1988, cujo território permanece até os dias atuais. Organizado já em função dos novos acontecimentos. O Brasil proclamara a independência em 1822 e já não se tratava mais de uma colônia. Bem mais tarde, em 1988, com a promulgação da nova constituição, temos o mapa atual do território brasileiro, bem como a sua respectiva delimitação.

Em 1822, quando o Brasil se tornou independente, ele estava dividido em 19 províncias. O território brasileiro havia sido muito ampliado pelos bandeirantes que iam para o chamado “sertão” (áreas interioranas a oeste e ao sul) em busca de ouro e pedras preciosas, além de indígenas para serem escravizados. Foi nessa época que fundaram muitas vilas e que depois, se tornaram cidades. No nordeste, a pecuária bovina continuava a se expandir pelo interior, destinada a abastecer o litoral nordestino açucareiro e, posteriormente, a região das minas gerais.

Responda as questões abaixo:



PARA PENSAR

- a) Observe os mapas das páginas anteriores e responda: Você diria que todos os estados se apresentam com a mesma forma até os dias de hoje? Justifique sua resposta apontando suas observações.



Brasil: Questões fronteiriças entre 1828-1907

As atuais fronteiras brasileiras foram definidas no início do século XX por acordos internacionais. O principal deles envolveu o atual estado do Acre, que integrava o território boliviano.



4) Ao observar o mapa, notamos que o Brasil conseguiu aumentar o território a partir de guerras. Responda:
a) Quais foram esses conflitos, bem como o ano que aconteceram?

← As questões fronteiriças em destaque no mapa demonstram que, na maioria dos casos, os limites territoriais foram definidos pelos rios (elementos naturais), como o Oiapoque e o Araguari, na questão do Amapá, o Chapecó, na questão de Palmas, e o Tacutu, na questão do Pirara.

Fontes de pesquisa: Cláudio Vicentino. *Atlas histórico: geral e Brasil*. São Paulo: Scipione, 2011. p. 130; José Jobson de A. Arruda. *Atlas histórico básico*. São Paulo: Ática, 2007. p. 44.

Parabéns, você realizou as atividades de Geografia!



Até a próxima aula! 😊

PROFESSORES (AS) COLABORADORES:

**IOKISA TAKAU JUNIOR
ROMEU NAREZI JÚNIOR
GILSON QUEIROZ DE ALCÂNTARA (EPP)**

