



# PREFEITURA MUNICIPAL DE TAUBATÉ

## SECRETARIA DE EDUCAÇÃO

**# ESCOLA SEM MUROS: EM CASA TAMBÉM SE APRENDE!**

### Matemática 4º ano (Atividade 21)

**(EF04MA01) Ler, escrever e ordenar números naturais até a ordem de dezenas de milhar.**

Para facilitar a leitura dos números, as ordens são agrupadas de três em três (do final para o começo). Cada um desses três grupos de ordens é chamado de classe. Assim, no número quarenta e cinco mil duzentos e setenta e nove, temos.

2ª classe ou classe dos milhares			1ª classe ou classe das unidades simples		
6ª ordem	5ª ordem	4ª ordem	3ª ordem	2ª ordem	1ª ordem
Centena de milhar	dezena de milhar	unidade de milhar	centena	dezena	unidade
	4	5	2	7	9

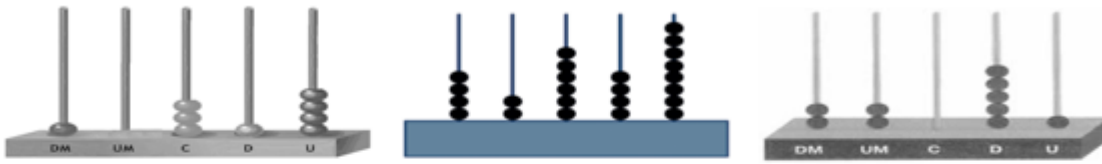
1. Escreva os seguintes números no quadro de ordens:

- Quatro mil e noventa e dois
- Dois mil, oitocentos e trinta e sete
- Cinquenta e sete mil, cento e vinte e cinco
- Vinte e cinco mil
- Quarenta e dois mil, trezentos e dez

2ª classe ou classe dos milhares			1ª classe ou classe das unidades simples		
6ª ordem	5ª ordem	4ª ordem	3ª ordem	2ª ordem	1ª ordem
Centena de milhar	dezena de milhar	unidade de milhar	centena	dezena	unidade

2. Observe os desenhos dos diferentes ábacos abaixo e faça o que se pede:

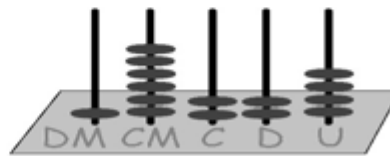

- a) Represente cada um dos numerais formados em cada ábaco por meio de algarismos;
- b) Escreva esses numerais por extenso;
- c) Complete os números formados no quadro de ordens.



Fonte.: <https://www.maniadecalculador.blogspot.com/atividade-de-matematica-5-ano-numeros->

a) Representação do numeral por meio de algarismos

--	--	--



Fonte.: <https://gartic.com.br/muzinha/gallery/1293706>, <https://escolakids.com.br>

a) Representação do numeral por meio de algarismos

--	--

b) Escreva por extenso:


c) Quadro de Ordens

CLASSE DOS MILHARES			CLASSE UNIDADE SIMPLES		
CM	DM	UM	C	D	U