



PREFEITURA MUNICIPAL DE TAUBATÉ

SECRETARIA DE EDUCAÇÃO

ESCOLA SEM MUROS: EM CASA TAMBÉM SE APRENDE!

MATEMÁTICA - 1º ANO – Atividade 25

HABILIDADES: (EF01MA03) ESTIMAR E COMPARAR QUANTIDADES DE OBJETOS DE DOIS CONJUNTOS (EM TORNO DE 20 ELEMENTOS), POR ESTIMATIVA E/OU POR CORRESPONDÊNCIA (UM A UM, DOIS A DOIS) PARA INDICAR “TEM MAIS”, “TEM MENOS” OU “TEM A MESMA QUANTIDADE”; **(EF01MA06)** CONSTRUIR FATOS BÁSICOS DA ADIÇÃO E UTILIZÁ-LOS EM PROCEDIMENTOS DE CÁLCULO PARA RESOLVER PROBLEMAS; **(EF01MA17)** RECONHECER E RELACIONAR PERÍODOS DO DIA, DIAS DA SEMANA E MESES DO ANO, UTILIZANDO CALENDÁRIO, QUANDO NECESSÁRIO.

1. DEIXE A CENA DA FESTA JUNINA BEM COLORIDA E RESPONDA O QUE SE PEDE.



QUANTAS GULOSEIMAS O BARRAQUEIRO VENDEU?

$$\begin{array}{c} \text{Two lollipops} \\ \square \end{array} + \begin{array}{c} \text{Five ice cream cones} \\ \square \end{array} = \square$$

$$\begin{array}{c} \text{Three lollipops} \\ \square \end{array} + \begin{array}{c} \text{Three ears of corn} \\ \square \end{array} = \square$$

2. OBSERVE O CALENDÁRIO DO MÊS DE JULHO E RESPONDA:

JULHO						
D	S	T	Q	Q	S	S
			1	2	3	4
5	6	7	8	9	10	11
12	13	14	15	16	17	18
19	20	21	22	23	24	25
26	27	28	29	30	31	

- QUANTOS DIAS TÊM ESTE MÊS?
 29 31
- QUAL É O PRIMEIRO DIA DO MÊS DE JULHO?
 SEGUNDA-FEIRA QUARTA-FEIRA
- QUANTOS SÁBADOS TÊM O MÊS DE JULHO?
 4 6
- QUAL A DATA DO PRIMEIRO DOMINGO DO MÊS DE JULHO?
 5 8
- QUANTOS DIAS TÊM UMA SEMANA?
 6 7
- QUE DIA DA SEMANA É O ÚLTIMO DIA DO MÊS DE JULHO?
 SEXTA-FEIRA SÁBADO
- PINTE O DIA 16 DE JULHO DE AMARELO.
- O DIA 16 DE JULHO CAIRÁ EM QUAL DIA DA SEMANA?
 QUARTA-FEIRA QUINTA-FEIRA

3. LIGUE CADA CRIANÇA À QUANTIDADE DE LÁPIS DELA.



EU TENHO 24 LÁPIS.




EU TENHO 06 LÁPIS.




EU TENHO 12 LÁPIS.




4. VAMOS PINTAR OS DESENHOS E RESOLVER ESSES PROBLEMINHAS.

A)  MARIA TINHA 4 LACINHOS E GANHOU MAIS UM.
QUANTOS ELA TEM AGORA?

+ =

B)  TIAGO TINHA 5 CARRINHOS E GANHOU MAIS DOIS.
QUANTOS ELE TEM AGORA?

+ =

C)  O GATO TINHA 4 PEIXES E GANHOU MAIS QUATRO.
QUANTOS ELE TEM AGORA?

+ =